

TRƯỜNG TIỂU HỌC NGUYỄN KHUYẾN LỚP : HỌ TÊN :	ĐỀ KIỂM TRA CUỐI HỌC KỲ II Môn : Toán Khối lớp : Hai Năm học 2017 -2018 Thời gian làm bài : 40 phút		
	Giám thị 1	Giám thị 2	Số thứ tự

PHẦN I
..../3 điểm


TRẮC NGHIỆM:

Hãy khoanh tròn vào chữ A , B , C , D đặt trước câu trả lời đúng.

Câu 1: Số 612 được đọc là:

- A. Sáu một hai B. Sáu trăm mười hai
 C. Sáu trăm mười D. Sáu trăm hai một

Câu 2: Hình trên đã tô màu là:



- A. $\frac{1}{2}$ B. $\frac{1}{4}$ C. $\frac{1}{3}$ D. $\frac{1}{5}$

Câu 3: Kết quả của phép tính: $27\text{km} + 46\text{km} = \dots$

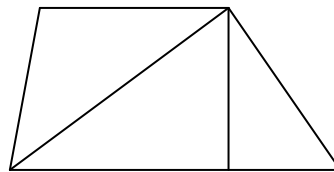
- A. 73km B. 53km C. 63km D. 76km

Câu 4: Chọn số thích hợp điền vào chỗ trống: $6\text{dm} = \dots\text{cm}$

- A. 6000 B. 6 C. 600 D. 60

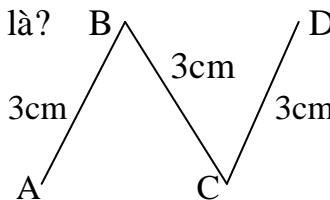
Câu 5: Hình bên có mấy hình tam giác?

- A. 3 B. 4 C. 5 D. 6



Câu 6: Độ dài đường gấp khúc ABCD là?

- A. 6cm B. 7cm C. 8cm D. 9cm



PHẦN II
..../7 điểm

TỰ LUẬN

Bài 1:
.... /1 điểm

a) Đồng hồ chỉ mấy giờ?



b) Ngày 12 tháng 4 năm 2017 là thứ mấy?

Tháng 4 năm 2017						
Thứ hai	Thứ ba	Thứ tư	Thứ năm	Thứ sáu	Thứ bảy	Chủ nhật
					1	2
3	4	5	6	7	8	9
10	11	12	13	14	15	16
17	18	19	20	21	22	23
24	25	26	27	28	29	30

Đặt tính rồi tính:

a) $26 + 37$

b) $453 + 524$

Bài 2:
.... /1 điểm

Bài 3:
.... /2 điểm

a) Tìm x:
 $x : 6 = 8$

b) Tính:
 $5 \times 7 - 18 =$

Bài 4:
.... /2 điểm

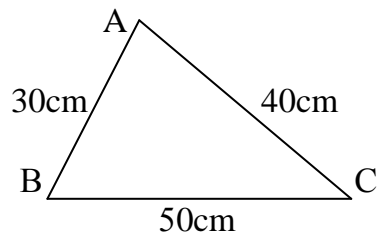
Một bao gạo cân nặng 5kg. Hỏi 10 bao gạo như thế cân nặng bao nhiêu ki – lô – gam?

Bài giải:

Bài 5:
.... /1 điểm

Tính chu vi hình tam giác ABC ở hình bên:

Bài giải:



Người duyệt đề

HIỆU TRƯỞNG

ĐÁP ÁN MÔN TOÁN LỚP 2 KIỂM TRA CUỐI HỌC KỲ II

NĂM HỌC : 2017- 2018

PHẦN I: TRẮC NGHIỆM (3 điểm)

Câu 1: B Câu 2: C Câu 3: A
Câu 4: D Câu 5: B Câu 6: D

Mỗi câu đúng đạt 0,5đ (0,5 x 6= 3 điểm)

PHẦN II: TỰ LUẬN (7 ĐIỂM)

Bài 1: Điền số thích hợp vào ô trống (1điểm) (Mỗi câu 0,5 điểm)

a) 7 giờ 15 phút b) Thứ tư

Bài 2: Đặt tính rồi tính: (1 điểm) (Mỗi câu 0,5 điểm)

a) b)

26	+	37	63
----	---	----	----

453	+	524	977
-----	---	-----	-----

Bài3: (2 điểm) (Mỗi câu 1 điểm)

a) x : 6 = 8

$$x = 8 \times 6$$

$$x = 48$$

b) $5 \times 7 - 18 = 35 - 18$
 $= 17$

Bài 4: Bài toán (2 điểm)

Số ki – lô – gam 10 bao gạo như thế cân nặng là:

$$5 \times 10 = 50 \text{ (kg)}$$

Đáp số: 50kg

Bài 5: Hình học (1 điểm)

Chu vi tam giác ABC là:

$$30 + 40 + 50 = 120 \text{ (cm)}$$

Đáp số: 120 cm

Tuyensinh247.com