

TRƯỜNG TIỂU HỌC SỐ 1      KIỂM TRA KÌ I NĂM HỌC 2017-2018

THỊ TRẤN CHỢ CHÙA

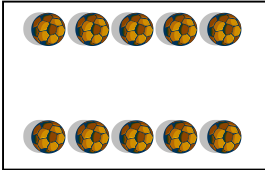



MÔN : Toán - LỚP 1

Thời gian: 35 phút

Họ và tên .....	Lớp .....	Mã phách
Ngày kiểm tra : Ngày      tháng      năm 2017	.....	

Điểm bằng số	Bảng chữ	Chữ kí GK	Mã phách
--------------	----------	-----------	----------

**Câu 1:** Viết số thích hợp vào ô trống

			
<input type="text"/>	<input type="text"/>	<input type="text"/>	<input type="text"/>

**Câu 2:** Viết cách đọc số theo mẫu

3: ba ;      8: ..... ;      5: ..... ;      6: ..... ;      7: .....

**Câu 3:** Tính

5	10	7	9
+	-	+	-
<u>4</u>	<u>3</u>	<u>0</u>	<u>4</u>
...	....	...	....

**Câu 4: Tính**

a)  $6 + 3 = \dots$

b)  $7 - 4 = \dots$

c)  $5 + 0 + 2 = \dots$

d)  $10 - 1 - 3 = \dots$

**Câu 5: Hình bên:**



a) Có ..... hình tròn.

b) Có ..... hình tam giác.

**Câu 6: Số ?**

a)  $6 + \square = \square$

b)  $9 - \square = 4$

**Câu 7: Điền dấu  $>$ ,  $<$ ,  $=$**

a)  $2 + 7$   $10$   $\square$

b)  $3 + 5$   $5 + 3$   $\square$

**Câu 8: Điền số và dấu  $+$ ,  $-$  vào ô cho thích hợp:**

<input type="text"/>	<input type="text"/>	<input type="text"/>	=	7
----------------------	----------------------	----------------------	---	---

<input type="text"/>	<input type="text"/>	<input type="text"/>	=	7
----------------------	----------------------	----------------------	---	---

**Câu 9: Viết phép tính thích hợp với tóm tắt bài toán sau:**

Nam có:                      7 nhãn vở

Ngân có: 3 nhãn vở

Cả hai bạn có: ... nhãn vở ?

--	--	--	--	--

**Câu 10: Em hãy chọn và khoanh câu đúng**

Hình vẽ bên có phép tính tương ứng là:



a)

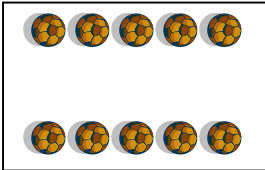



7	-	5	=	2
---	---	---	---	---

b)

8	-	5	=	3
---	---	---	---	---

## ĐÁP ÁN VÀ THANG ĐIỂM MÔN TOÁN LỚP 1

**Câu 1:** ( 1 điểm) Điền đúng mỗi ô số được 0,25 điểm

			
<input type="text" value="10"/>	<input type="text" value="7"/>	<input type="text" value="6"/>	<input type="text" value="4"/>

**Câu 2:** ( 1 điểm) Viết đúng mỗi số được 0,25 điểm)

3: ba ( mẫu)      8: tám;      5: năm ;      6: sáu;      7: bảy

**Câu 3:** ( 1 điểm) Tính đúng mỗi phép tính được 0,25 điểm

5	10	7	9
+	-	+	-
4	3	0	4
9	7	7	5

**Câu 4:** ( 1 điểm) Tính đúng mỗi câu được 0,25 điểm

- |                |                     |
|----------------|---------------------|
| c) $6 + 3 = 9$ | c) $5 + 0 + 2 = 7$  |
| d) $7 - 4 = 3$ | d) $10 - 1 - 3 = 6$ |

**Câu 5:** ( 1 điểm) Đúng mỗi câu được 0,5 điểm



- c) Có 4 hình tròn.
- d) Có 3 hình tam giác.

**Câu 6: ( 1 điểm) Điền đúng mỗi câu được 0,5 điểm**

b)  $6 + 4 = 10$

b)  $9 - 5 = 4$

**Câu 7: ( 1 điểm) Điền đúng dấu ở mỗi câu được 0,5 điểm**

b)  $2 + 7 < 10$

b)  $3 + 5 = 5 + 3$

**Câu 8: ( 1 điểm) Điền đúng mỗi phép tính có kết quả là 7 được 0,5 điểm**

5	+	2	=	7
---	---	---	---	---

3	+	4	=	7
---	---	---	---	---

**Câu 9: ( 1 điểm) Viết đúng phép tính được 1 điểm**

7	+	3	=	10
---	---	---	---	----

**Câu 10: ( 1 điểm) Khoanh câu b được 1 điểm**



a)

7	-	5	=	2
---	---	---	---	---

b)

8	-	5	=	3
---	---	---	---	---