

ĐỀ CHÍNH THỨC

Thời gian làm bài: 90 phút, không kể thời gian phát đề

(Đề thi có 06 trang)

Mã đề thi 132

Họ, tên thí sinh:

Số báo danh:

Câu 1: Tập nghiệm S của bất phương trình $\log_{\frac{1}{2}}(x+1) < \log_{\frac{1}{2}}(2x-1)$ là:

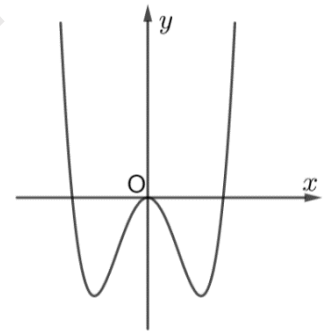
- A. $S = (2; +\infty)$. B. $S = (-\infty; 2)$. C. $S = \left(\frac{1}{2}; 2\right)$. D. $S = (-1; 2)$.

Câu 2: Cho $\int_0^4 f(x)dx = 16$, khi đó $\int_0^2 f(2x)dx$ bằng

- A. 32. B. 8. C. 16. D. 4.

Câu 3: Đồ thị của hàm số nào dưới đây có dạng như đường cong trong hình bên?

- A. $y = x^3 - 3x$. B. $y = x^2 - 3x$.
C. $y = x^4 - 3x^2$. D. $y = \frac{x}{x-3}$.



Câu 4: Nghiệm của phương trình $2^{x+1} = 5$ là:

- A. $x = \log_2 5$. B. $x = 1 - \log_2 5$. C. $x = -1 + \log_2 5$. D. $x = -1 + \log_5 2$.

Câu 5: Cho hàm số $f(x)$ có đạo hàm trên đoạn $[1; 2]$, $f(1) = 1$ và $f(2) = 2$ thì $\int_1^2 f'(x)dx$ bằng

- A. 1. B. -1. C. 3. D. $\frac{7}{2}$.

Câu 6: Cho hàm số $y = f(x)$ có bảng biến thiên như sau:

x	$-\infty$		0		2		$+\infty$
y'		-	0	+	0	-	
y	$+\infty$				5		$-\infty$

\swarrow \nearrow \searrow
 1 5 $-\infty$

Điểm cực đại của hàm số là:

- A. $x = 5$. B. $x = 2$. C. $x = 0$. D. $x = 1$.

Câu 7: Với a, b là các số thực dương tùy ý. Mệnh đề nào dưới đây đúng?

A. $\ln(ab) = \ln a + \ln b$. B. $\ln(ab) = \ln a \cdot \ln b$. C. $\ln \frac{a}{b} = \frac{\ln a}{\ln b}$. D. $\ln \frac{a}{b} = \ln b - \ln a$.

Câu 8: Cho đường thẳng Δ cắt mặt cầu $S(O; R)$. Gọi d là khoảng cách từ O đến Δ . Khẳng định nào dưới đây đúng?

A. $d < R$. B. $d > R$. C. $d = R$. D. $d = 0$.

Câu 9: Cho khối lăng trụ tứ giác có đáy là hình vuông cạnh bằng 4, chiều cao bằng 6. Thể tích của khối lăng trụ đã cho bằng

A. 96. B. 16. C. 24. D. 32.

Câu 10: Trong không gian $Oxyz$, cho mặt cầu $(S): (x+1)^2 + (y+2)^2 + z^2 = 5$. Toạ độ tâm I và bán kính R của (S) là:

A. $I(1; 2; 0), R = 5$. B. $I(1; 2; 0), R = \sqrt{5}$. C. $I(-1; -2; 0), R = \sqrt{5}$. D. $I(-1; -2; 0), R = 5$.

Câu 11: Đặt $a = \log_3 2$, khi đó $\log_{16} 27$ bằng

A. $\frac{3a}{4}$. B. $\frac{4a}{3}$. C. $\frac{4}{3a}$. D. $\frac{3}{4a}$.

Câu 12: Cho khối lăng trụ tam giác đều có tất cả các cạnh bằng a . Thể tích khối lăng trụ đã cho bằng

A. $V = \frac{a^3 \sqrt{3}}{6}$. B. $V = \frac{a^3 \sqrt{3}}{12}$. C. $V = \frac{a^3 \sqrt{3}}{2}$. D. $V = \frac{a^3 \sqrt{3}}{4}$.

Câu 13: Cho hình nón có diện tích xung quanh bằng $3\pi a^2$ và có bán kính đáy bằng a . Độ dài đường sinh của hình nón đã cho bằng

A. $2a$. B. $\frac{3a}{2}$. C. $2\sqrt{2}a$. D. $3a$.

Câu 14: Trong không gian $Oxyz$, mặt phẳng $(P): x - 2z + 1 = 0$ có một vectơ pháp tuyến là:

A. $\vec{n}_2 = (0; 1; -2)$. B. $\vec{n}_3 = (1; -2; 0)$. C. $\vec{n}_1 = (1; 0; -2)$. D. $\vec{n}_4 = (1; -2; 1)$.

Câu 15: Tập xác định D của hàm số $y = (x^2 - x - 2)^{-3}$ là:

A. $D = \mathbb{R}$. B. $D = (0; +\infty)$.
C. $D = \mathbb{R} \setminus \{-1; 2\}$. D. $D = (-\infty; -1) \cup (2; +\infty)$.

Câu 16: Trong không gian $Oxyz$, góc giữa hai mặt phẳng (Oxz) và $(P): x - y + 1 = 0$ bằng

A. 60° . B. 135° . C. 45° . D. 90° .

Câu 17: Đạo hàm của hàm số $y = 5^x$ là:

A. $y' = x5^{x-1}$. B. $y' = 5^x \ln 5$. C. $y' = 5^x$. D. $y' = \frac{5^x}{\ln 5}$.

Câu 18: Nếu $\int_0^{\frac{\pi}{2}} f(x) dx = 5$ thì $\int_0^{\frac{\pi}{2}} [f(x) + 2 \sin x] dx$ bằng

A. 7. B. $5 + \frac{\pi}{2}$. C. 3. D. $5 + \pi$.

Câu 19: Đồ thị của hàm số nào dưới đây có tiệm cận đứng?

A. $y = \frac{x^2}{x^2+1}$. B. $y = \frac{x^2-3x+2}{x-1}$. C. $y = \sqrt{x^2-1}$. D. $y = \frac{x}{x+1}$.

Câu 20: Giá trị nhỏ nhất của hàm số $y = x^4 - 12x^2 + 10$ trên $[0; 6]$ đạt được tại điểm

A. $x = \sqrt{6}$. B. $x = 0$. C. $x = -26$. D. $x = 6$.

Câu 21: Từ các chữ số 1, 2, 3, 4, 5, 6, 7 lập được bao nhiêu số tự nhiên gồm hai chữ số khác nhau?

A. C_7^2 . B. 2^7 . C. 7^2 . D. A_7^2 .

Câu 22: Cho cấp số cộng (u_n) với $u_1 = 2$ và công sai $d = 3$. Giá trị của u_3 bằng

A. 18. B. 8. C. 6. D. 11.

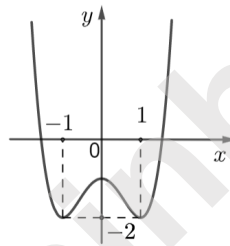
Câu 23: Cho hàm số $y = x^3 + 5x$ có đồ thị (C) . Số giao điểm của (C) với trục hoành là

A. 3. B. 1. C. 0. D. 2.

Câu 24: Cho hàm số $y = f(x)$ có đạo hàm $f'(x) = 3x^2, \forall x \in \mathbb{R}$. Khẳng định nào dưới đây đúng?

A. Hàm số nghịch biến trên $(-\infty; 0)$. B. Hàm số nghịch biến trên $(0; +\infty)$.
 C. Hàm số nghịch biến trên $(-\infty; +\infty)$. D. Hàm số đồng biến trên $(-\infty; +\infty)$.

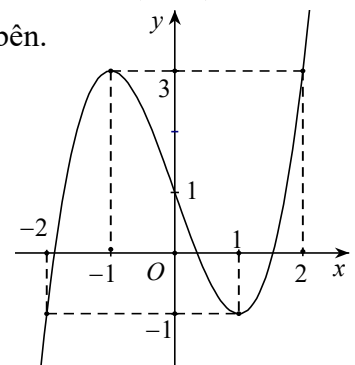
Câu 25: Cho hàm số $y = f(x)$ có đồ thị như hình vẽ sau. Hàm số đã cho đồng biến trên khoảng nào dưới đây?



A. $(0; 1)$. B. $(-\infty; 1)$. C. $(-1; 1)$. D. $(-1; 0)$.

Câu 26: Cho hàm số bậc ba $y = f(x)$ có đồ thị là đường cong như hình bên. Giá trị cực tiểu của hàm số đã cho là

A. -1. B. 1.
 C. 2. D. 3.



Câu 27: Họ nguyên hàm của hàm số $f(x) = e^x + x$ là

A. $e^x + x^2 + C$. B. $e^x + \frac{1}{2}x^2 + C$. C. $\frac{1}{x+1}e^x + \frac{1}{2}x^2 + C$. D. $e^x + 1 + C$.

Câu 28: Cho khối chóp có đáy là hình vuông cạnh a và chiều cao bằng $2a$. Thể tích của khối chóp đã cho bằng

A. $4a^3$. B. $\frac{2}{3}a^3$. C. $2a^3$. D. $\frac{4}{3}a^3$.

Câu 29: Biết $\int_0^{\frac{\pi}{4}} x \cos 2x dx = a + b\pi$, với a, b là các số hữu tỷ. Giá trị $S = a + 2b$ bằng

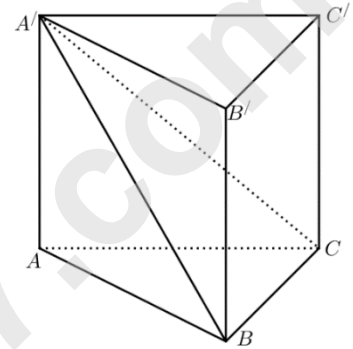
- A. 0. B. 1. C. $\frac{1}{2}$. D. $\frac{3}{8}$.

Câu 30: Thể tích khối tròn xoay thu được khi quay hình phẳng giới hạn bởi hai đường $y = x^2 - x$ và $y = 0$ quanh trục Ox bằng

- A. $\frac{\pi}{3}$. B. $\frac{\pi}{15}$. C. $\frac{\pi}{30}$. D. $\frac{\pi}{5}$.

Câu 31: Cho lăng trụ tam giác đều $ABC.A'B'C'$ có tất cả các cạnh bằng nhau (tham khảo hình bên). Cosin của góc tạo bởi hai mặt phẳng $(A'BC)$ và (ABC) bằng

- A. $\frac{2\sqrt{3}}{3}$. B. $\frac{\sqrt{21}}{7}$.
C. $\frac{2\sqrt{7}}{7}$. D. $\frac{\sqrt{21}}{3}$.

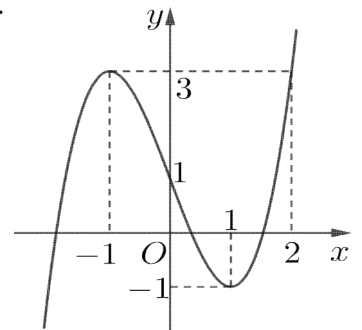


Câu 32: Cho hàm số $y = f(x)$ có đạo hàm $f'(x) = x^2(x-1)(x+2)$ với mọi $x \in \mathbb{R}$. Số điểm cực tiểu của hàm số đã cho là

- A. 0. B. 3. C. 1. D. 2.

Câu 33: Cho hàm số bậc ba $y = f(x)$ có đồ thị là đường cong trong hình bên. Có bao nhiêu giá trị nguyên của tham số m để phương trình $f(x) = m$ có ba nghiệm thực phân biệt?

- A. 4. B. 5.
C. 2. D. 3.



Câu 34: Một tổ có 4 học sinh nam và 6 học sinh nữ. Hỏi có bao nhiêu cách chọn ra 3 học sinh trong đó có 2 học sinh nam?

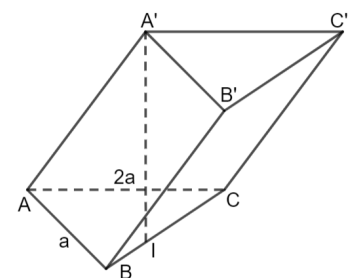
- A. 12. B. 72. C. 36. D. 18.

Câu 35: Tích tất cả các nghiệm của phương trình $\log_2^2 x - \log_2(8x) + 3 = 0$ bằng

- A. 16. B. 2. C. 4. D. 8.

Câu 36: Cho hình lăng trụ $ABC.A'B'C'$ có đáy ABC là tam giác vuông tại A , $AB = a$, $AC = 2a$ (tham khảo hình bên). Hình chiếu vuông góc của A' lên mặt phẳng (ABC) là điểm I thuộc cạnh BC . Khoảng cách từ A tới mặt phẳng $(A'BC)$ bằng

- A. $\frac{2}{3}a$. B. $\frac{\sqrt{3}}{2}a$.
C. $\frac{1}{3}a$. D. $\frac{2\sqrt{5}}{5}a$.



Câu 37: Trong không gian $Oxyz$, mặt phẳng (P) đi qua hai điểm $A(1;2;0)$, $B(2;3;1)$ và song song với trục Oz có phương trình là:

- A. $x - y + 1 = 0$. B. $x + y - 3 = 0$. C. $x + z - 3 = 0$. D. $x - y - 3 = 0$.

Câu 38: Một hình nón (N) có thiết diện qua trục là một tam giác vuông cân với cạnh góc vuông bằng $a\sqrt{2}$. Thể tích của khối nón (N) bằng

- A. $\frac{\pi a^3}{3}$. B. $\frac{\pi a^3}{2}$. C. πa^3 . D. $\frac{\pi\sqrt{2}a^3}{12}$.

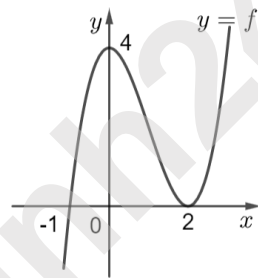
Câu 39: Có bao nhiêu số nguyên x thỏa mãn $\log_3 x + 2\log_x 9 - 5 \leq 0$?

- A. 79. B. 80. C. 81. D. 27.

Câu 40. Cho hàm số $y = f(x)$ liên tục trên \mathbb{R} , có đồ thị (C) và có đạo hàm cấp hai $f''(x) = 6x + 12$. Biết đồ thị (C) đi qua điểm $M(-2;2)$ và tiếp tuyến của (C) tại M là đường thẳng $d: y = 2x + 6$. Khi đó giá trị của $f(3)$ bằng

- A. 137. B. 135. C. 131. D. 129.

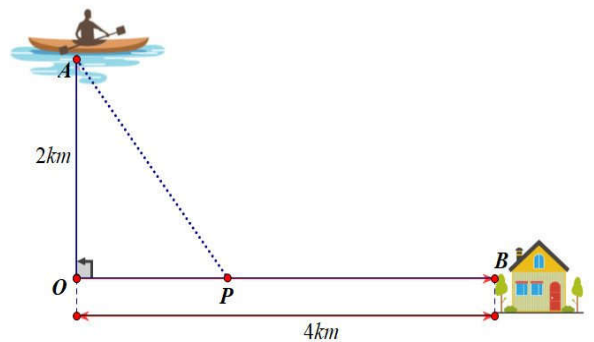
Câu 41. Cho hàm số $y = f(x) = \frac{1}{4}x^4 + ax^3 + bx^2 + cx$. Hàm số $y = f'(x)$ có đồ thị như hình vẽ sau:



Số điểm cực trị của hàm số $y = f(1 - x^2)$ là

- A. 5. B. 3. C. 4. D. 2.

Câu 42. Anh Ba đang trên chiếc thuyền tại vị trí A cách bờ sông 2 km , anh dự định chèo thuyền vào bờ và tiếp tục chạy bộ theo một đường thẳng để đến một địa điểm B tọa lạc ven bờ sông, B cách vị trí O trên bờ gần với thuyền nhất là 4 km (hình vẽ). Biết rằng anh Ba chèo thuyền với vận tốc 6 km/h và chạy bộ trên bờ với vận tốc 10 km/h . Khoảng thời gian ngắn nhất để anh Ba từ vị trí xuất phát đến được điểm B là



- A. 40 phút. B. 44 phút. C. 30 phút. D. 38 phút.

Câu 43. Cho hình chóp tam giác đều $S.ABC$ có cạnh đáy bằng a , khoảng cách giữa cạnh bên SA và cạnh đáy BC bằng $\frac{3a}{4}$. Thể tích khối chóp $S.ABC$ bằng

A. $\frac{3a^3\sqrt{3}}{4}$.

B. $\frac{a^3\sqrt{3}}{4}$.

C. $\frac{a^3\sqrt{3}}{6}$.

D. $\frac{a^3\sqrt{3}}{12}$.

Câu 44. Cho hàm số $y = f(x)$ không âm thỏa mãn điều kiện $f(x)f'(x) = 2x\sqrt{f^2(x)+1}$ và $f(0) = 0$. Thể tích khối tròn xoay thu được khi quay hình phẳng giới hạn bởi các đường $y = f(x), y = 0, x = 0, x = 3$ quanh trục Ox bằng

A. $\frac{333}{5}$.

B. $\frac{333\pi}{5}$.

C. $\frac{127089\pi}{35}$.

D. $\frac{(11\sqrt{11}-2\sqrt{11})\pi}{3}$.

Câu 45: Cho $\int_0^{\frac{\pi}{3}} \frac{x \sin x dx}{2 \cos^3 x} = a\pi + b\sqrt{3}$ với a, b là các số hữu tỷ. Giá trị của $a + b$ bằng

A. $\frac{1}{12}$.

B. $\frac{7}{12}$.

C. $\frac{5}{6}$.

D. $-\frac{1}{6}$.

Câu 46: Trong không gian $Oxyz$, gọi (P) là mặt phẳng đi qua điểm $A(1; 4; -3)$ và chứa trục Ox . Mặt cầu (S) có tâm $I(1; 2; 1)$ và tiếp xúc với mặt phẳng (P) có phương trình là:

A. $(x-1)^2 + (y-2)^2 + (z-1)^2 = 4$.

B. $(x+1)^2 + (y+2)^2 + (z+1)^2 = 4$.

C. $(x-1)^2 + (y-2)^2 + (z-1)^2 = 2$.

D. $(x+1)^2 + (y+2)^2 + (z+1)^2 = 2$.

Câu 47. Có bao nhiêu cặp số nguyên $(x; y)$ thỏa mãn $0 \leq x \leq 2023$ và $\log_2(2x+2) + x = 2y + 4^y$?

A. 2022.

B. 6.

C. 2023.

D. 4.

Câu 48: Cho hình nón đỉnh S , đường cao SO . Gọi A và B là hai điểm thuộc đường tròn đáy hình nón sao cho khoảng cách từ O đến AB bằng a và $\widehat{SAO} = 30^\circ, \widehat{SAB} = 60^\circ$. Diện tích xung quanh hình nón bằng

A. $\pi a^2\sqrt{6}$.

B. $2\pi a^2\sqrt{3}$.

C. $\pi a^2\sqrt{3}$.

D. $\frac{\pi a^2\sqrt{6}}{2}$.

Câu 49: Trong không gian $Oxyz$, cho ba điểm $A(1; 4; 5), B(3; 4; 0), C(2; -1; 0)$ và mặt cầu $(S): (x-1)^2 + (y+1)^2 + (z-3)^2 = 4$, điểm N thay đổi trên mặt cầu (S) . Gọi M, m lần lượt là giá trị lớn nhất và giá trị nhỏ nhất của biểu thức $P = NA^2 + NB^2 + 3NC^2$. Giá trị $M - m$ bằng

A. 125.

B. 120.

C. 80.

D. 85.

Câu 50. Cho hàm số $y = f(x)$ liên tục trên \mathbb{R} . Biết rằng $f'(2023) = 0$ và $f''(x) < 0, \forall x \in \mathbb{R}$. Xét hàm số $h(x) = f(\cot^2 x - 2 \cot x + 2024)$ trên khoảng $(0; \pi)$. Khẳng định nào dưới đây là đúng?

A. $h(1) - h(2) > 0$.

B. $h(2) - h(3) < 0$.

C. $h\left(\frac{\pi}{2}\right) - h\left(\frac{\pi}{4}\right) > 0$.

D. $h\left(\frac{\pi}{6}\right) - h\left(\frac{\pi}{4}\right) > 0$.

.....HẾT.....

ĐÁP ÁN ĐỀ THI THỬ THPT LẦN 1 NĂM 2023

Bài thi: TOÁN

Câu	Mã 132	Mã 209	Mã 357	Mã 485
1	C	C	C	D
2	B	D	B	A
3	C	B	C	D
4	C	C	A	B
5	A	B	C	C
6	B	A	D	B
7	A	D	A	A
8	A	C	D	B
9	A	B	B	C
10	C	D	A	D
11	D	C	B	C
12	D	B	C	B
13	D	C	D	C
14	C	D	B	A
15	C	D	C	B
16	C	B	D	A
17	B	A	C	B
18	A	C	B	A
19	D	A	D	C
20	A	D	A	D
21	D	A	D	D
22	B	B	B	C
23	B	D	D	D
24	D	A	A	A
25	D	A	B	C
26	A	B	C	B
27	B	A	A	D
28	B	C	A	A
29	A	C	C	A
30	C	B	A	B
31	B	B	B	A
32	C	B	D	B
33	D	A	D	D
34	C	B	B	C
35	B	D	C	C
36	D	C	A	A

37	A	A	D	A
38	A	D	A	D
39	A	A	C	D
40	A	A	D	D
41	B	C	D	C
42	A	A	C	C
43	D	B	C	A
44	B	A	A	A
45	A	C	A	C
46	A	D	D	D
47	B	A	C	B
48	C	B	D	D
49	B	B	C	C
50	A	D	D	B

Tuyensinh247.com